



# ΜΑΘΗΜΑ 1

**Επανάληψη στην Ενότητα 5**  
**Σήμερα θα θυμηθούμε τους**  
**αριθμούς ως το 100**

1	2	3	4	5	6	7	8	9	10
11	12	13	14	15	16	17	18	19	20
21	22	23	24	25	26	27	28	29	30
31	32	33	34	35	36	37	38	39	40
41	42	43	44	45	46	47	48	49	50
51	52	53	54	55	56	57	58	59	60
61	62	63	64	65	66	67	68	69	70
71	72	73	74	75	76	77	78	79	80
81	82	83	84	85	86	87	88	89	90
91	92	93	94	95	96	97	98	99	100

Ας θυμηθούμε τι μάθαμε!



# Ας μετρήσουμε 10-10

Πάτησε στον πιο κάτω σύνδεσμο  
και μέτρησε και εσύ 10-10

<https://www.youtube.com/watch?v=s-2Rj5SF71A>




Πόσα είναι;

Κάνω εξάσκηση πατώντας στον πιο κάτω σύνδεσμο.

<https://www.mathgames.com/skill/1.34-count-groups-of-ten-to-20-30-120>

Count the apples.



100

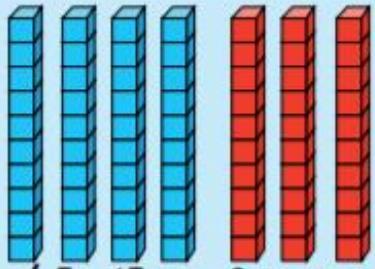
10

50

60

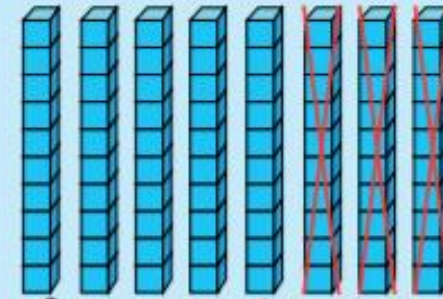
# Ας θυμηθούμε τι μάθαμε

## Πρόσθεση δεκάδων



$$4 \text{ δεκάδες} + 3 \text{ δεκάδες} = 7 \text{ δεκάδες}$$
$$40 + 30 = 70$$

## Αφαίρεση δεκάδων



$$8 \text{ δεκάδες} - 3 \text{ δεκάδες} = 5 \text{ δεκάδες}$$
$$80 - 30 = 50$$



## Λύνω τα πιο κάτω στο τετράδιό μου

$20 + 30 = \dots\dots$

$40 + 10 = \dots\dots$

$60 + 20 = \dots\dots$

$20 + 50 = \dots\dots$

$60 - 30 = \dots\dots$

$80 - 20 = \dots\dots$

$50 - 40 = \dots\dots$

$90 - 40 = \dots\dots$

$60 + 10 = \dots\dots$

$70 - 30 = \dots\dots$

$20 + \dots\dots = 30$

$\dots\dots + 30 = 80$

$80 - \dots\dots = 10$

$10 + 20 + 40 = \dots\dots$





Τώρα έλεγξε τις  
απαντήσεις σου.





# Ελέγγω τις απαντήσεις μου

$20 + 30 = \dots 50$

$40 + 10 = \dots 50$

$60 + 20 = \dots 80$

$20 + 50 = \dots 70$

$60 - 30 = \dots 30$

$80 - 20 = \dots 60$

$50 - 40 = \dots 10$

$90 - 40 = \dots 50$

$60 + 10 = \dots 70$

$70 - 30 = \dots 40$

$20 + \dots 10 = 30$

$\dots 50 + 30 = 80$

$80 - \dots 70 = 10$

$10 + 20 + 40 = \dots 70$



Κάνω εξάσκηση πατώντας  
στον σύνδεσμο.

<https://www.mathgames.com/skill/1.36-add-tens>



Evaluate

$$40 + 10 = \square \square$$

Answer

Εξασκούμε και εδώ...

<https://www.mathgames.com/skill/1.41-subtract-tens>

$$50 - 40 = \boxed{\phantom{00}}$$

Answer



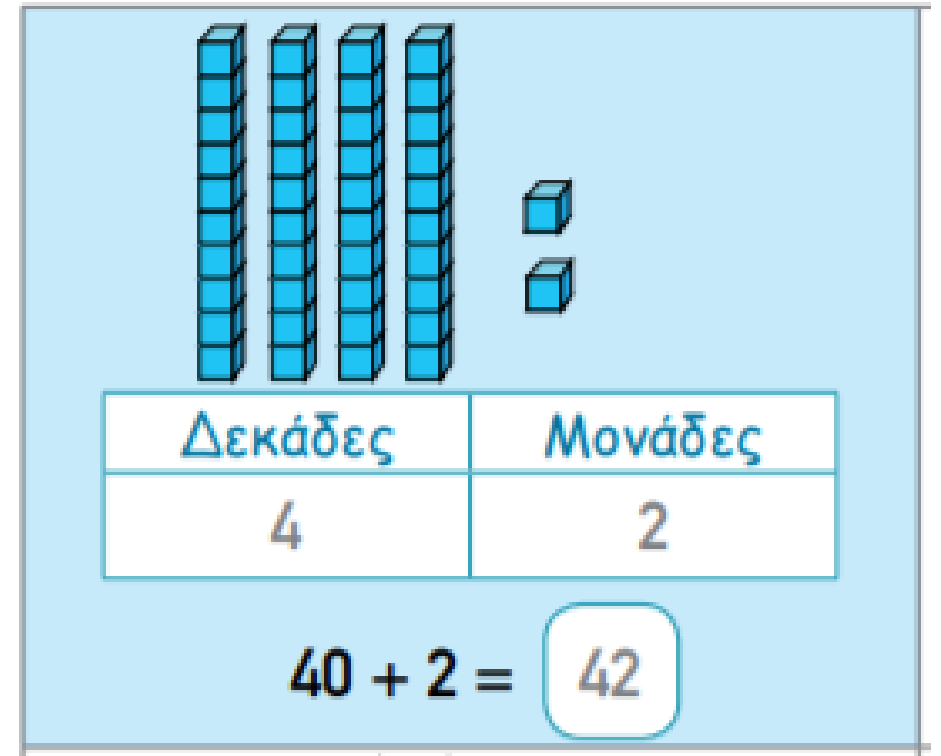



## ΜΑΘΗΜΑ 2

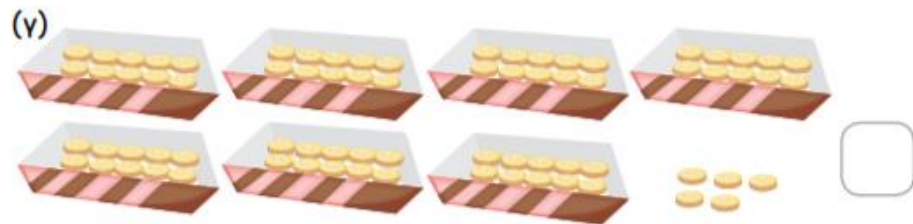
Επανάληψη στην Ενότητα 5  
**ΟΙ ΑΡΙΘΜΟΙ ΜΕΧΡΙ ΤΟ 100**  
**ΜΟΝΑΔΕΣ - ΔΕΚΑΔΕΣ**

# Ας θυμηθούμε τι μάθαμε:

Σε ένα αριθμό με 2 ψηφία το ψηφίο δεξιά δείχνει τις Μονάδες και το ψηφίο αριστερά τις Δεκάδες.



Πόσα είναι τα αντικείμενα κάθε φορά; Γράψε τον αριθμό.



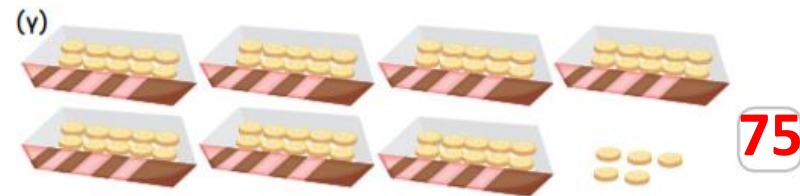
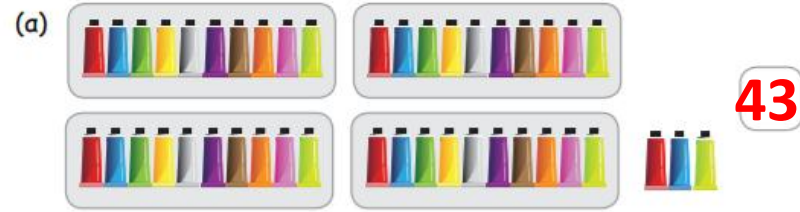


Τώρα έλεγξε τις απαντήσεις σου.



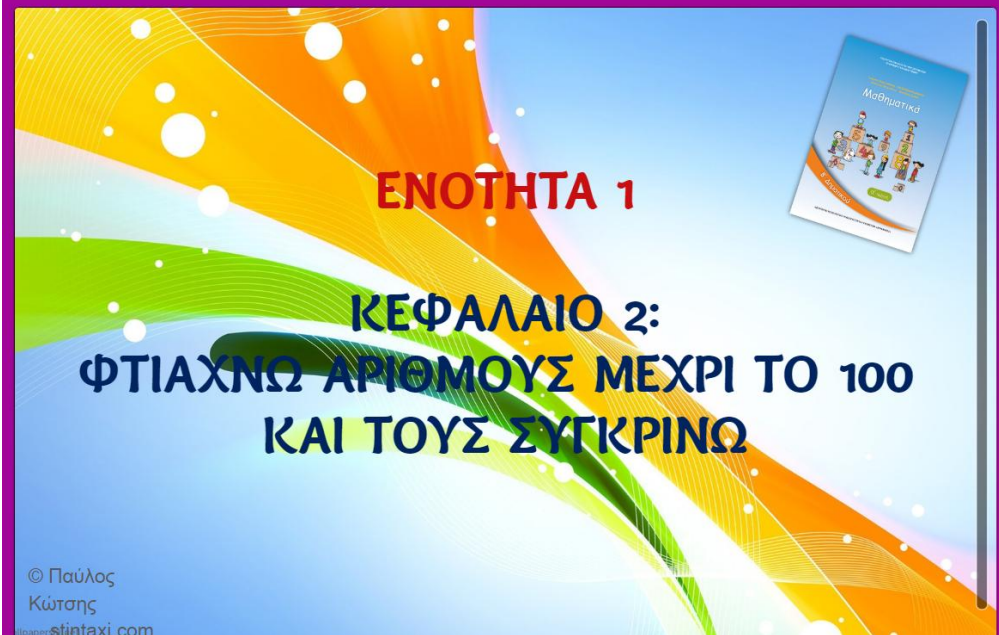


# Πόσα είναι τα αντικείμενα κάθε φορά; Γράψε τον αριθμό



Κάνω εξάσκηση πατώντας στον πιο κάτω σύνδεσμο

<http://users.sch.gr/pkotsis/4/b-taxi/maths/b1-math-arithmoi-os-100%20%28Web%29/index.html>



**ΕΝΟΤΗΤΑ 1**

**ΚΕΦΑΛΑΙΟ 2:**  
**ΦΤΙΑΧΝΩ ΑΡΙΘΜΟΥΣ ΜΕΧΡΙ ΤΟ 100**  
**ΚΑΙ ΤΟΥΣ ΣΥΓΚΡΙΝΩ**

© Παύλος  
Κώσης  
www.sintaxi.com

Έναρξη

Λύνω στο  
τετράδιό μου.

$40 + 5 = \underline{\quad}$

$70 + 1 = \underline{\quad}$

$30 + 8 = \underline{\quad}$

$60 + 2 = \underline{\quad}$

$80 + 4 = \underline{\quad}$

$6 + 20 = \underline{\quad}$

$90 + 7 = \underline{\quad}$

$50 + 3 = \underline{\quad}$

$5 + 60 = \underline{\quad}$

$70 + \underline{\quad} = 78$

$30 + \underline{\quad} = 35$

$4 + \underline{\quad} = 24$

$80 + \underline{\quad} = 82$

$40 + \underline{\quad} = 43$

$3 + \underline{\quad} = 53$

$\underline{\quad} + 6 = 96$

$\underline{\quad} + 50 = 51$

$\underline{\quad} + 2 = 32$



$30 + 4 = \underline{\quad}$

$30 + 2 = \underline{\quad}$

$75 - 5 = \underline{\quad}$

$70 + 5 = \underline{\quad}$

$80 + 6 = \underline{\quad}$

$8 + 80 = \underline{\quad}$

$58 - 8 = \underline{\quad}$

$50 + 1 = \underline{\quad}$

$63 - 3 = \underline{\quad}$

$42 - 2 = \underline{\quad}$



Τώρα έλεγξε τις  
απαντήσεις σου.



Διορθώνω!

$40 + 5 = \underline{45}$

$70 + 1 = \underline{71}$

$30 + 8 = \underline{38}$

$60 + 2 = \underline{62}$

$80 + 4 = \underline{84}$

$6 + 20 = \underline{26}$

$90 + 7 = \underline{97}$

$50 + 3 = \underline{53}$

$5 + 60 = \underline{65}$

$70 + \underline{8} = 78$

$30 + \underline{5} = 35$

$4 + \underline{20} = 24$

$80 + \underline{2} = 82$

$40 + \underline{3} = 43$

$3 + \underline{50} = 53$

$\underline{90} + 6 = 96$

$\underline{1} + 50 = 51$

$\underline{30} + 2 = 32$

$30 + 4 = \underline{34}$

$30 + 2 = \underline{32}$

$75 - 5 = \underline{70}$

$70 + 5 = \underline{75}$

$80 + 6 = \underline{86}$

$8 + 80 = \underline{88}$

$58 - 8 = \underline{50}$

$50 + 1 = \underline{51}$

$63 - 3 = \underline{60}$

$42 - 2 = \underline{40}$





## ΜΑΘΗΜΑ 3

Επανάληψη στην Ενότητα 5  
**ΟΙ ΑΡΙΘΜΟΙ ΜΕΧΡΙ ΤΟ 100**  
**ΜΟΝΑΔΕΣ - ΔΕΚΑΔΕΣ**



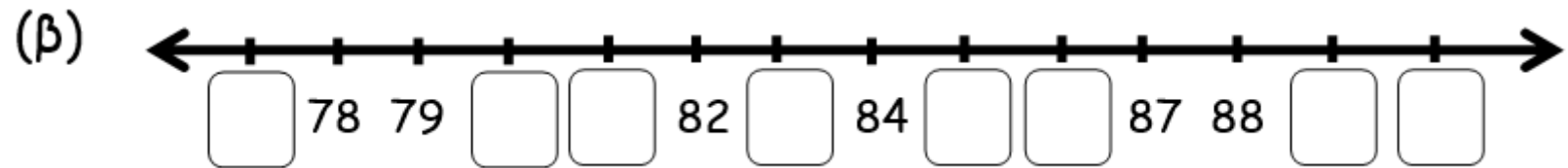
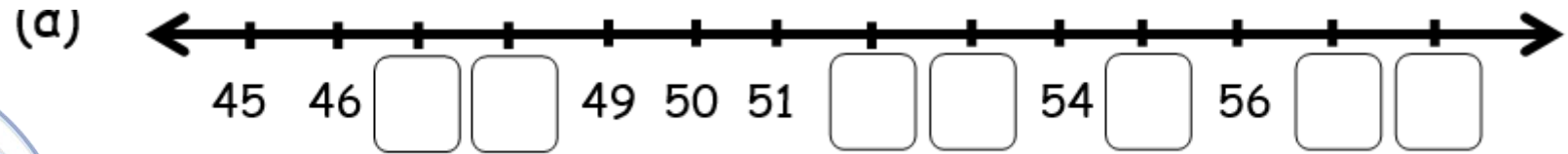

# Ας παίξουμε!

<https://www.ictgames.com/shark/Numbers/mobile/index.html>


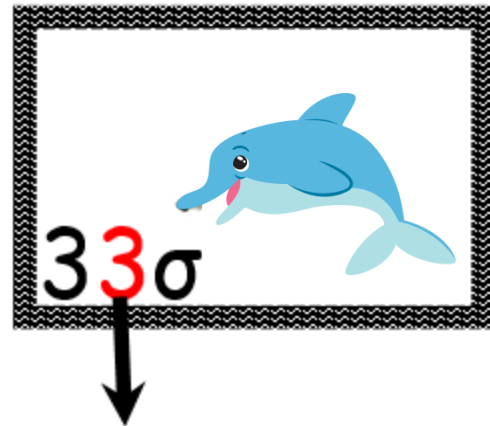

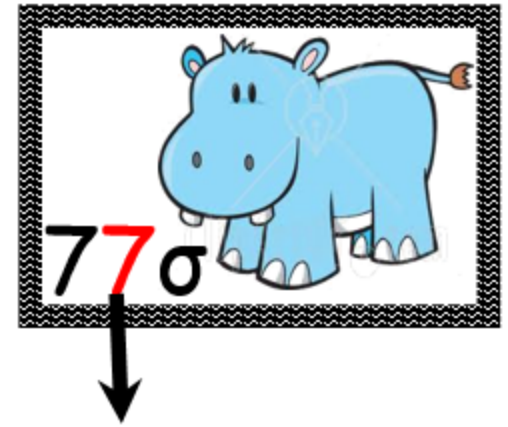

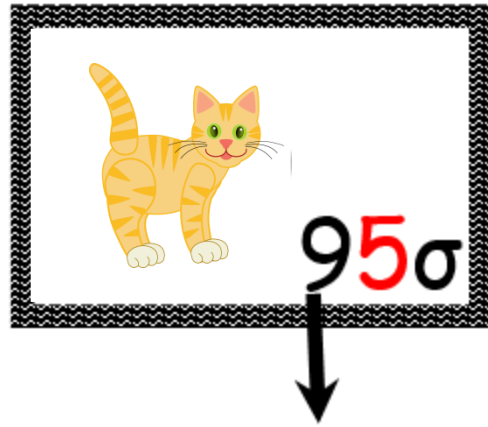




# Συμπληρώνω τους αριθμούς που λείπουν



# Γράφω την αξία του υπογραμμισμένου ψηφίου



# Πόσα είναι τα χρήματα κάθε φορά;



			 	<input type="text"/>
			  	<input type="text"/>
				<input type="text"/>

## Λύνω τα προβληματάκια

1. Ο παππούς της Λένας έχει στο περιβόλι του 50 πορτοκαλιές, 20 μηλιές και 8 αχλαδιές. Πόσα δέντρα έχει συνολικά στο περιβόλι του ο παππούς της Λένας;

Μαθηματική πρόταση:.....

Απάντηση:.....



2. Ο Γιάννης μάζεψε συνολικά 70 πορτοκάλια και λεμόνια από τα δέντρα της αυλής του. Αν τα πορτοκάλια ήταν 20, πόσα ήταν τα λεμόνια;

Μαθηματική πρόταση:.....

Απάντηση:.....

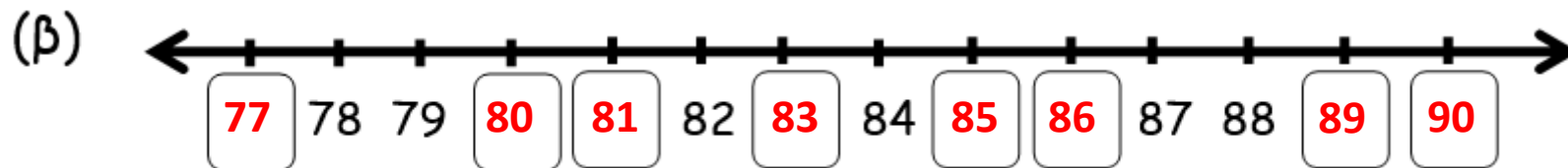
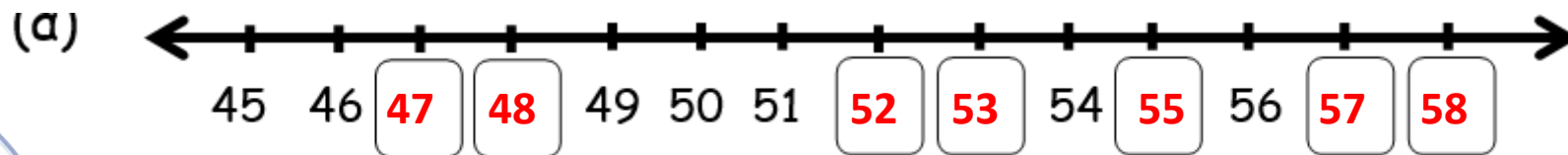




Τώρα έλεγξε τις  
απαντήσεις σου.



# Συμπληρώνω τους αριθμούς που λείπουν



# Γράφω την αξία του υπογραμμισμένου ψηφίου

95σ  
90

81σ  
1

77σ  
7

81σ  
80

33σ  
3

56σ  
50





# Πόσα είναι τα χρήματα κάθε φορά;



## Λύνω τα προβληματάκια

1. Ο παππούς της Λένας έχει στο περιβόλι του 50 πορτοκαλιές, 20 μηλιές και 8 αχλαδιές. Πόσα δέντρα έχει συνολικά στο περιβόλι του ο παππούς της Λένας;

Μαθηματική πρόταση:  $50+20+8=$

Απάντηση: **Ο παππούς της Λένας έχει συνολικά 78 δέντρα.**

2. Ο Γιάννης μάζεψε συνολικά 70 πορτοκάλια και λεμόνια από τα δέντρα της αυλής του. Αν τα πορτοκάλια ήταν 20, πόσα ήταν τα λεμόνια;

Μαθηματική πρόταση:  $20 +$    $=70$

Απάντηση: **Τα λεμόνια ήταν 50.**

The background is a vibrant pink with a white center. On the left, Minnie Mouse is dressed as a bunny in a pink hood with white polka dots and a large pink bow. On the right, Mickey Mouse is dressed as a bunny in a yellow hood with pink polka dots. In the center, a small yellow chick sits on a nest. Scattered around are several colorful Easter eggs: one with multi-colored polka dots, one with a grey and white striped pattern, and one with a purple and white pattern.

## ΜΑΘΗΜΑ 4

Επανάληψη στην Ενότητα 5  
**ΟΙ ΑΡΙΘΜΟΙ ΜΕΧΡΙ ΤΟ 100**

# ΜΥΣΤΙΚΗ ΑΠΟΣΤΟΛΗ

Με τα πιο κάτω ψηφία φτιάξε όλους τους διψήφιους αριθμούς που μπορείς. Στη συνέχεια να τους τοποθετήσεις στη σειρά αρχίζοντας από τον μικρότερο.





Τώρα έλεγξε τις απαντήσεις σου.



Τα καταφέραμε!!!

ΛΥΣΗ

34 , 38, 43 , 48, 83, 84



# Ας παίξουμε!

[https://www.mathplayground.com/treasure\\_quest\\_hundreds\\_chart.html](https://www.mathplayground.com/treasure_quest_hundreds_chart.html)

**TREASURE QUEST**

				36	37	38			
					57				
91									

**LARGEST NUMBER**

100 120  
200 300  
400 500  
600 700  
800 900

**NUMBER HINTS?**

YES NO

**TARGET**

92

MathPlayground.com

Βάζω τον αριθμό που μου δείχνει στη σωστή θέση, πατώντας στο κατάλληλο τετράγωνο.



# Πατάμε στον σύνδεσμο για να λύσουμε τις ασκήσεις


<https://teachergeorgiasclass.weebly.com/uploads/4/5/0/7/45072177/%CE%9A%CE%B5%CF%86.2%CE%A6%CF%84%CE%B9%CE%AC%CF%87%CE%BD%CF%89%CE%B1%CF%81%CE%B9%CE%B8%CE%BC%CE%BF%CF%8D%CF%82%CE%BC%CE%AD%CF%87%CF%81%CE%B9%CF%84%CE%BF100%CE%BA%CE%B1%CE%B9%CF%84%CE%BF%CF%85%CF%82%CF%83%CF%85%CE%B3%CE%BA%CF%81%CE%AF%CE%BD%CF%89.pdf>

ΟΝΟΜΑ: \_\_\_\_\_


## ΜΑΘΗΜΑΤΙΚΑ 1<sup>η</sup> ΕΝΟΤΗΤΑ

Κεφ. 2: Ξητάχνω αριθμούς μέχρι το 100 και τους συγκρίνω

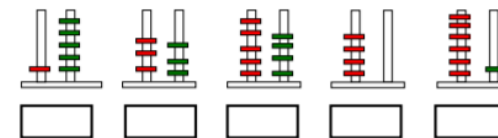
1. Αναβαίνω 10 - 10 μέχρι το 100.



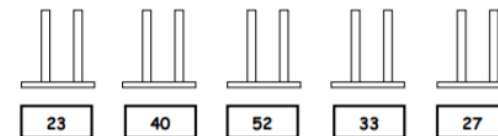
2. Συμπληρώνω τις λέξεις ή τα ψηφία που λείπουν.

15			δεκατρία
40			εξήντα
99			ογδόντα ένα

3. Γράφω στα κουτάκια τους αριθμούς που δείχνουν οι άρακες.



4. Σχεδιάζω στους άρακες τους αριθμούς που υπάρχουν στα κουτάκια (με κόκκινο τις Δεκάδες και με πράσινο τις Μονάδες).



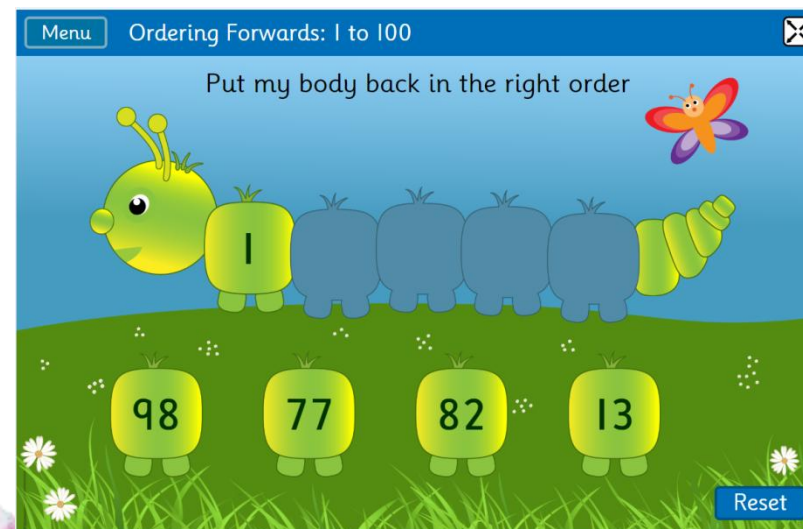
The background is a vibrant pink with a white gradient. On the left, Minnie Mouse is dressed as a bunny in a pink hood with white polka dots and a large pink bow. On the right, Mickey Mouse is dressed as a bunny in a yellow hood with pink polka dots. In the center, a small yellow chick sits on a nest. Several colorful Easter eggs are scattered around, including one with polka dots and one with stripes.

# ΜΑΘΗΜΑ 5


Επανάληψη στην Ενότητα 5  
**ΟΙ ΑΡΙΘΜΟΙ ΜΕΧΡΙ ΤΟ 100**

# Ας παίξουμε!

<https://www.topmarks.co.uk/ordering-and-sequencing/caterpillar-ordering>



# Πατάμε στο σύνδεσμο για να λύσουμε τις ασκήσεις

  
ΔΗΜΟΤΙΚΟ ΣΧΟΛΕΙΟ .....  
Όνομα: \_\_\_\_\_ Τάξη: \_\_\_\_\_

## Διαγνωστική άσκηση στην Ενότητα 5

1. Κάνε τις πιο κάτω πράξεις:

$50 + 40 =$	$90 - 20 =$	$30 + 60 =$	$80 - 20 =$
$80 + 20 =$	$60 - 50 =$	$20 + 60 =$	$90 - 90 =$
$70 + 3 =$	$50 + 4 =$	$40 + 7 =$	$90 + 6 =$
$7 + 70 =$	$4 + 50 =$	$2 + 20 =$	$5 + 90 =$
$78 - 8 =$	$56 - 6 =$	$53 - 3 =$	$87 - 7 =$

$\square + 30 = 80$	$90 + \square = 100$	$\square + 20 = 70$
$100 - \square = 70$	$\square - 60 = 20$	$\square - 40 = 40$
$60 + \square = 63$	$30 + \square = 35$	$9 + \square = 99$
$24 - \square = 20$	$38 - \square = 30$	$49 - \square = 9$

2. Γράψε τους αριθμούς.

Διάδεκα: ..... εξήντα: ..... είκοσι οχτώ: .....  
Ογδόντα τρία: ..... δεκαεπτά: ..... εκατό: .....

3. Βάλε τους αριθμούς στη σειρά ξεκινώντας από τον μικρότερο.

54 25 9 20 76 78 34 19

4. Βάλε τους αριθμούς στη σειρά ξεκινώντας από τον μεγαλύτερο.

79 47 1 62 12 54 100 40

<https://prwtokoudouni.weebly.com/uploads/2/1/5/3/21535154/%CE%B5%CE%BD%CE%BF%CF%84%CE%B7%CF%84%CE%B1%20%CE%B2%CF%84%CE%AC%CE%BE%CE%B7.pdf>





**ΜΠΡΑΒΟ!  
ΤΑ ΚΑΤΑΦΕΡΕΣ!!!**