


1. Συμπλήρωσε τη σκάλα:



2. Απάντησε στις ερωτήσεις:

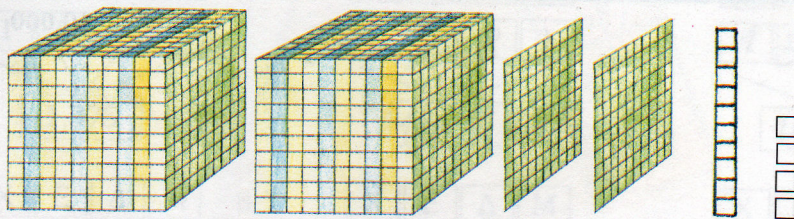
α) Ποιος είναι ο αριθμός αμέσως πριν από το 1000;

β) Ποιος είναι ο αριθμός αμέσως πριν από το 10.000;

γ) Ποιος είναι ο πρώτος αριθμός αμέσως μετά το 1000;

δ) Ποιος είναι ο πρώτος αριθμός αμέσως μετά το 2.000;

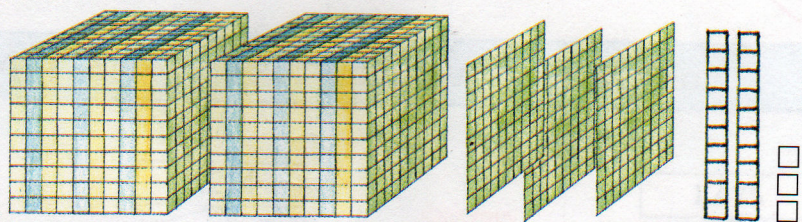
3. Να γράψεις με αριθμητικά ψηφία και με γράμματα τους αριθμούς:



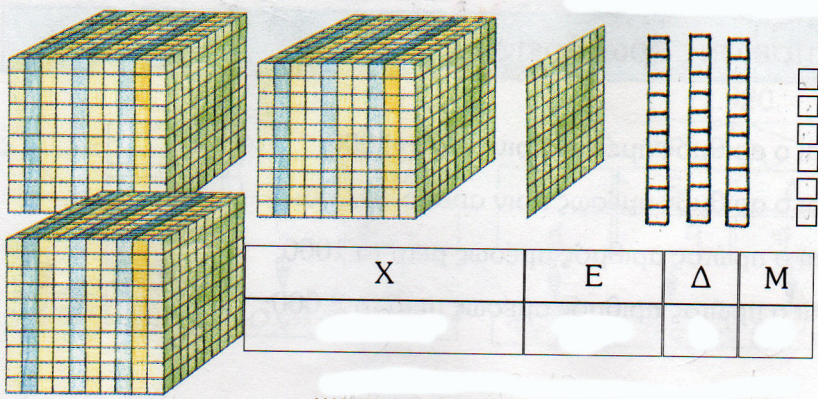
X	E	Δ	M
2	2	1	4

2.214

Δύο χιλιάδες διακόσια δεκατέσσερα



X	E	Δ	M



X	E	Δ	M

4. Γράψε με αριθμητικά ψηφία τους αριθμούς και κύκλωσε με κόκκινο χρώμα τον αριθμό που το ψηφίο 5 έχει τη μεγαλύτερη αξία και με μπλε τον αριθμό που το ψηφίο 5 έχει τη μικρότερη αξία.

X	E	Δ	M	X	E	Δ	M	X	E	Δ	M
---	---	---	---	---	---	---	---	---	---	---	---

5. Τι δείχνουν και τι σημαίνουν οι αριθμοί:

4.213								7.156			
X	E	Δ	M	X	E	Δ	M	X	E	Δ	M
↓	↓	↓	↓	↓	↓	↓	↓	↓	↓	↓	↓

Δείχνουν
Σημαίνουν

6. Γράψε τον αριθμό που έχει:

X	E	Δ	M	X	E	Δ	M	X	E	Δ	M
6	7	8	13	6	6	19	3	5	17	9	3