
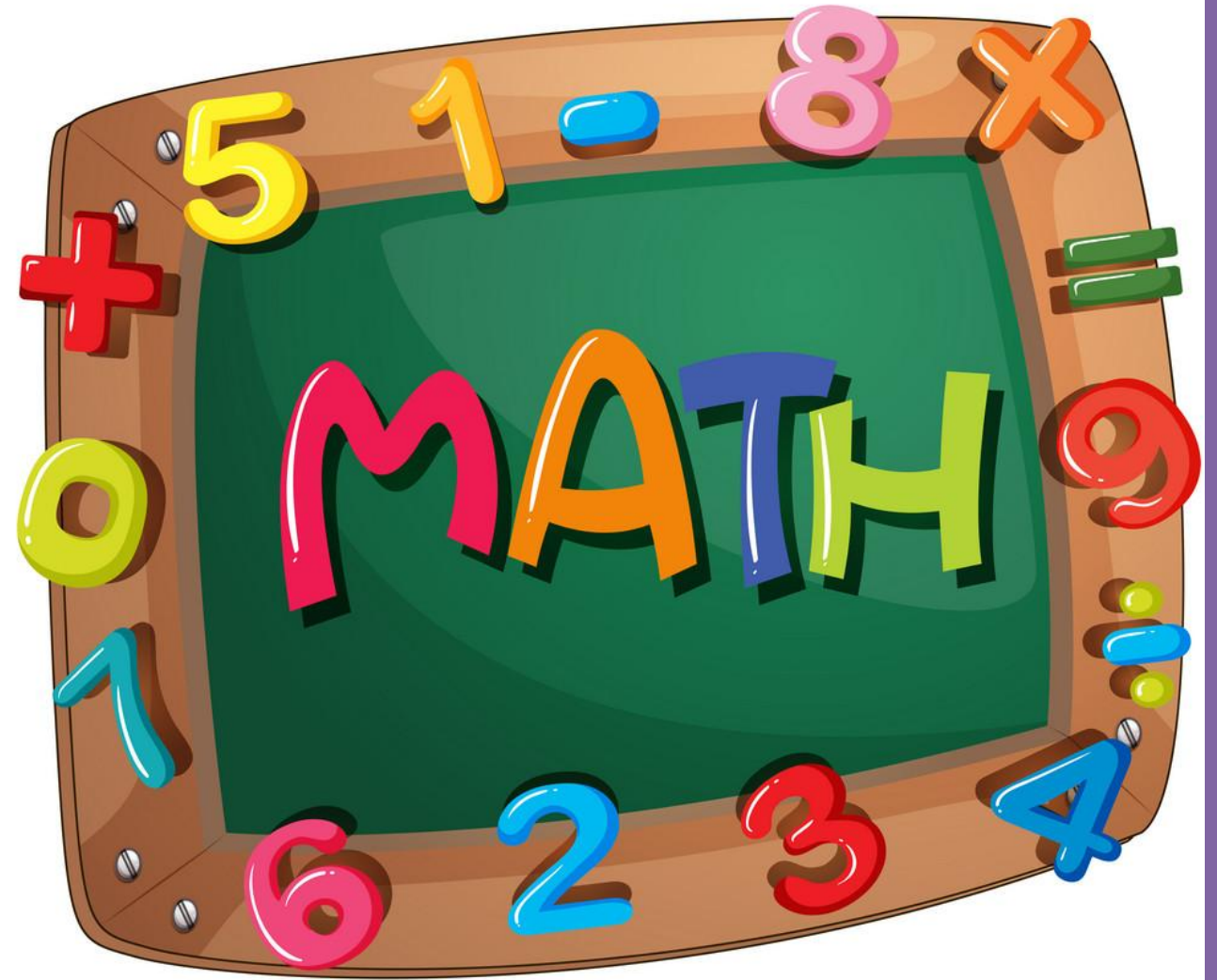



Τετάρτη 27 Ιανουαρίου

Ωρα για  
παιχνιδομαθη  
ματικά!





Ποησια  
του 10

# Πολλαπλάσια του 10

10

20

30

40

50

60

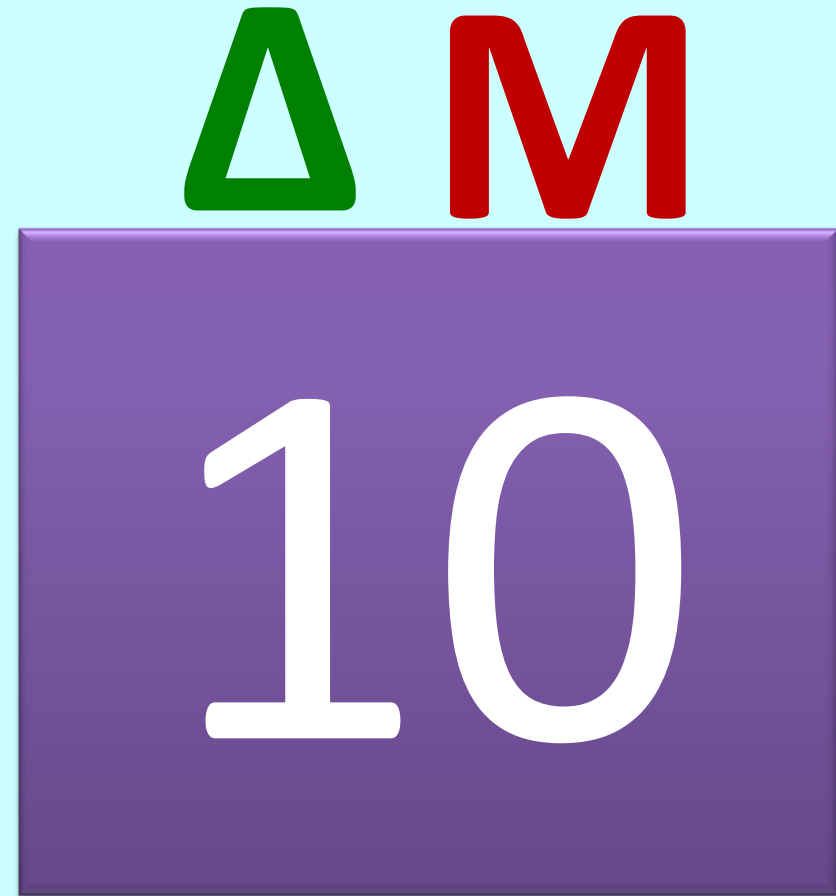
70

80

90

100

# 1 Δεκάδα



2 Δεκάδες




Δ

Μ

20

είκοσι

3 Δεκάδες



Δ Μ

30

Τριάντα

# 4 Δεκάδες

Δ Μ




40

σαράντα

5 Δεκάδες

Δ

Μ



5

0


Πενήντα



# 6 Δεκάδες

Δ

Μ



60

εξήντα

7 Δεκάδες

Δ

Μ



70

εβδομήντα

8 Δεκάδες

Δ

Μ




80

ογδώντα

9 Δεκάδες

Δ Μ



90




ενενήντα

# 10 Δεκάδες

Δ

Μ



100

ΕΚΑΤΌ

# ΜΕΤΡΟΥΜΕ 10-10 ΩΣ ΤΟ 100

10

20

30

40

50

60

70

80

90

100

Και τώρα αντίστροφα!

10

20

30

40

50

60

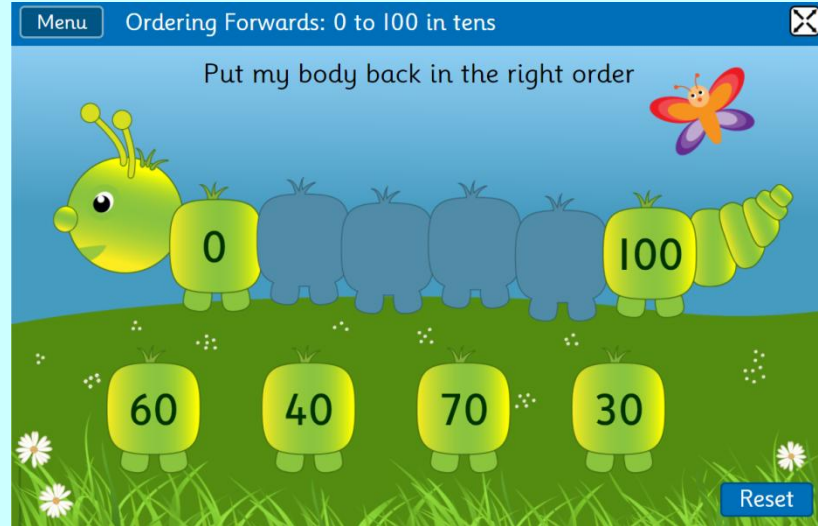
70

80

90

100

Αν θες να παίζεις παιχνίδια με τα πολλαπλάσια του 10 πάτησε στα πιο κάτω εικονίδια



Πατώ σε αυτές τις επιλογές!



Forwards

- 1 to 5
- 1 to 10
- 1 to 20
- 1 to 100
- 0 to 100 in tens
- 0 to 999
- 10 to 10
- 1 decimal place

Backwards

- 10 to 1
- 20 to 1
- 100 to 1
- 100 to 0 in tens
- 999 to 0





## Τετάρτη 27 Ιανουαρίου

1. ΜΕΤΡΩ 10-10 ως το 100 (10, 20, 30, 40, 50, 60, 70, 80, 90, 100).
2. ΜΕΤΡΩ προς τα πίσω 10-10 αρχίζοντας από το 100 (100, 90, 80, 70, 60, 50, 40, 30, 20, 10, 0).
3. Φτιάχνω με τα καλαμάκια μου τους αριθμούς: 10, 20, 30, 40, 50, 60, 70, 80, 90, 100.
4. Βιβλίο Μαθηματικών σελ. 26 και 27. Αν θες μπορείς να χρησιμοποιήσεις τα καλαμάκια σου!

## Πέμπτη 28 Ιανουαρίου

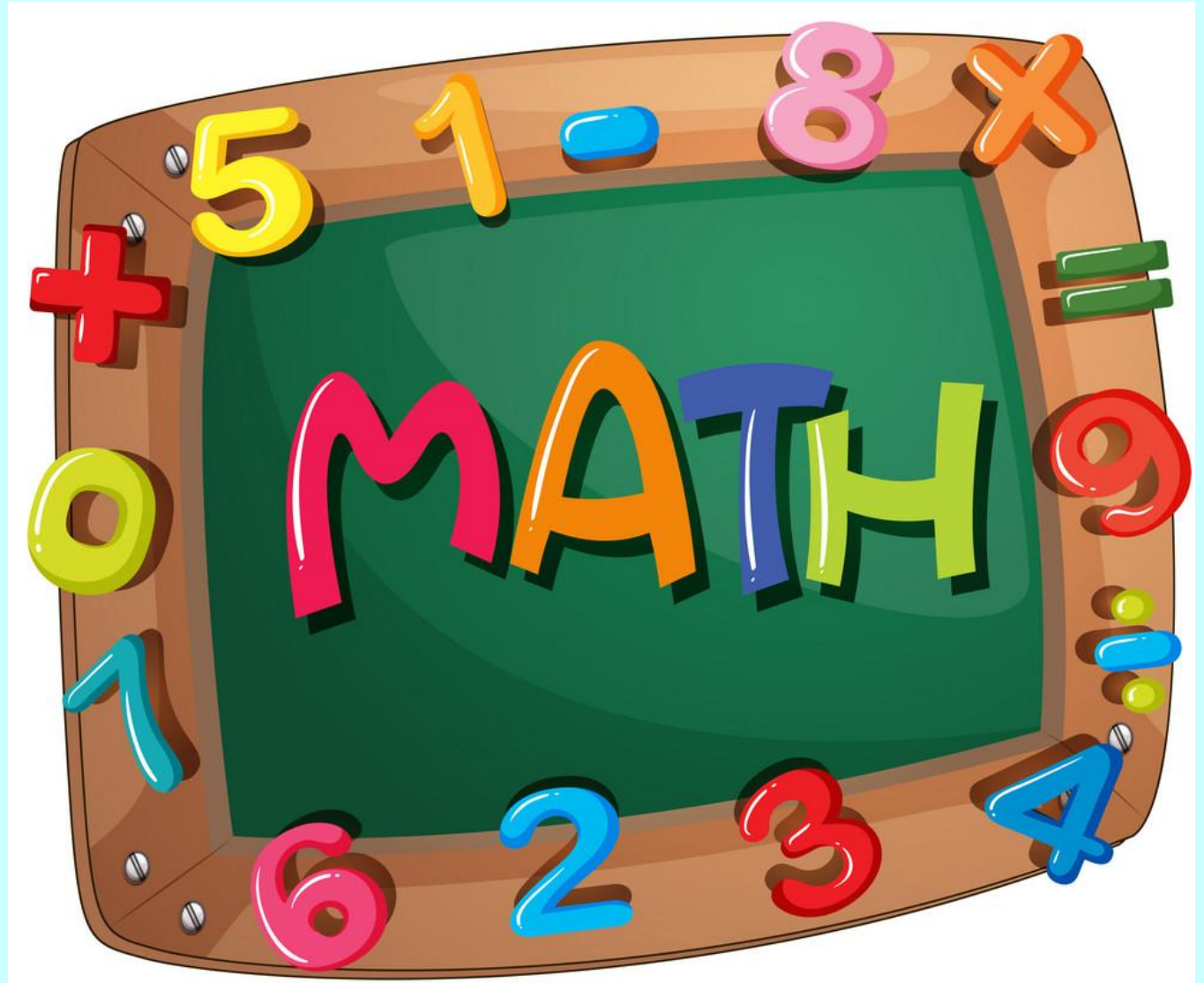


1. ΜΕΤΡΩ 10-10 ως το 100 (10, 20, 30, 40, 50, 60, 70, 80, 90, 100).
2. ΜΕΤΡΩ προς τα πίσω 10-10 αρχίζοντας από το 100 (100, 90, 80, 70, 60, 50, 40, 30, 20, 10, 0).
3. Φτιάχνω με τα καλαμάκια μου τους αριθμούς: 10, 20, 30, 40, 50, 60, 70, 80, 90, 100.
4. Βιβλίο Μαθηματικών σελ. 30. Αν θες μπορείς να χρησιμοποιήσεις τα καλαμάκια σου!

Παρασκευή 29 Ιανουαρίου  
Επανάληψη στην Πρόσθεση και Αφαίρεση ως το 10

Εργασία για το σπίτι:

Σελ. 13 και 18 από το  
Βιβλιαράκι: «Παίζω και  
μαθαίνω πρόσθεση  
μέχρι το 10».



Αν θες να παίζεις παιχνίδια πρόσθεσης και αφαίρεσης μέχρι το 10, πάτησε στα πιο κάτω εικονίδια:



### Robot Addition

An addition matching game

$5 - 1 = ?$

How many animals will be left?

5 4 6

4 + 3 =

1 2 3 4 5 6 7 8 9 0

## Subtraction Grids

One Number Two Numbers

Pick one number to complete the subtraction calculation

Up to 10

Up to 20

Up to 30

Up to 100 (Tens)

Up to 100

Up to 2.0 (Decimals)

## Number Fact Families

+ and - × and ÷

Addition & Subtraction

1 + 2 = 3 3 = 1 + 2

Up to 10 Up to 10

Up to 20 Up to 20

Up to 50 Up to 50

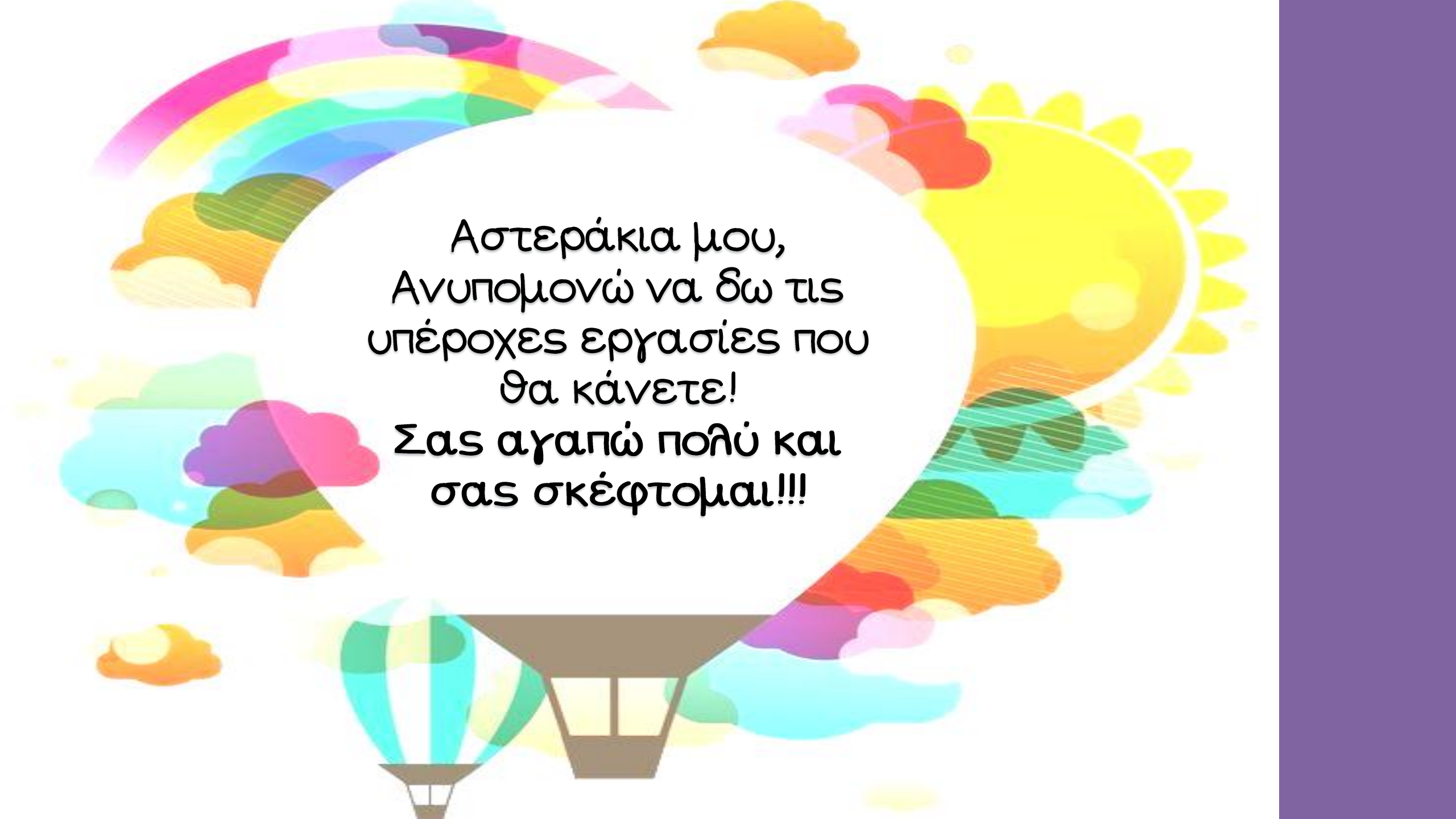
Up to 100 Up to 100

Negative to -50 Negative to -50

2-1 5-2 8-1 4-2

2

5



Αστεράκια μου,  
Ανυπομονώ να δω τις  
υπέροχες εργασίες που  
θα κάνετε!  
Σας αγαπώ πολύ και  
σας σκέφτομαι!!!